

5 的乘法口诀

课后作业

基础训练

1. 填空。

(1) 一条红领巾有()个角, 5 条红领巾有()个角。

(2) 一只手有()根手指, 一双手有()根手指。

(3) 一颗★有()个角, 7 个★有()个角。

2. 找朋友。

4×5

2×5

5×5

5×1

5×3

二五一十

四五二十

五五二十五

三五十五

一五得五

5×4

5×2

5×5

1×5

3×5

3. 一共有几只小鸡?



加法算式: _____,

乘法算式: _____,

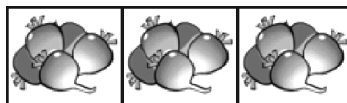
口诀: _____。

4. 看图写乘法算式说口诀。



乘法算式: _____,


口诀: _____。



乘法算式: _____,

口诀: _____。

5. 数花瓣。



一朵花有()个花瓣。

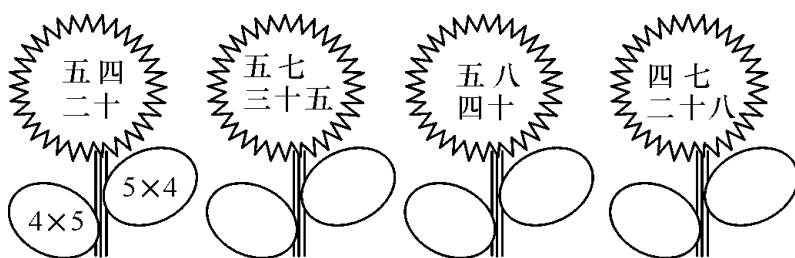
四朵花有()个花瓣。

六朵花有()个花瓣。

五朵花有()个花瓣。

八朵花有()个花瓣。

6.



7.



$5 \times 1 = 5$

一五得五



$5 \times 2 = 10$

二五一十



$5 \times 3 = 15$

()五十五



$5 \times 4 = 20$

四五()

上面的乘法算式还可以怎样写?




$5 \times 5 = 25$

拓展提高

8. 我有办法。





(1) 一共有多少只小兔子?



(只),

(只)。

(2) 一共有多少个苹果? 你能用两种方法解答吗?



9. 列式计算。

(1) 5 个 5 相加的和是多少？

(2) 一个因数是 4, 另一个因数是 5, 积是多少？

(3) 5 和 7 相乘的积是多少？

(4) 5 个 9 相加是多少？

(5) 一个因数是 5, 另一个因数是 8, 积是多少？

10. 解决问题。

(1) 每只小狗吃 5 块骨头, 5 只小狗一共吃了多少块？

(2) 小红做了 5 束花, 每束有 6 朵小花, 小红一共做了几朵花？

发散思维

11.

$$\bigcirc + \bigcirc + \bigcirc = 12$$

$$\bigcirc = (\quad)$$

$$\bigcirc \times \square = 20$$

$$\square = (\quad)$$



12. 如下图: 冬冬从第一棵树跑到第 5 棵树, 一共跑了多少米？

